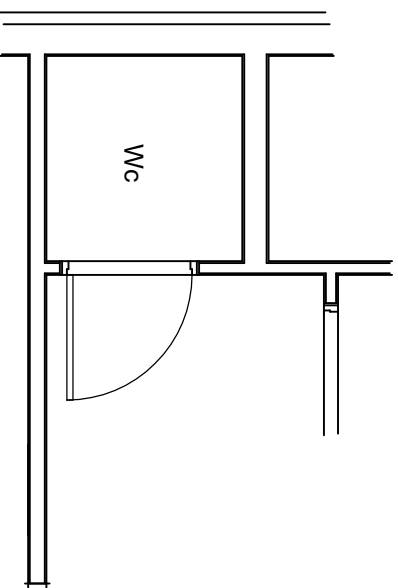
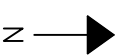
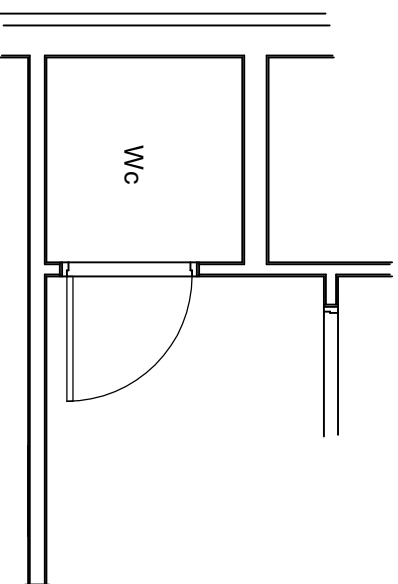


Alternativ 1



Alternativ 2



Oppgave:

Du skal plassere inn en servant og et gulvmontert Wc i dette rommet. Du skal plassere utstyret så brukervenlig og praktisk som mulig i forhold til rommet og resten av bygningen.
Finn to forskjellige måter å sette inn utstyret på, merk av den som du mener er mest fornuftig.

Dato	2016-05-01	Konstr./Tegnet	KJETIL	Tracet		Målestokk	1:50	Erstating for:	Erstatt av:
Kontroll	AMUND	Stand.kontroll	OLE	Godkjent	ARE				
Sanitæranlegg									
Utstyrsplassing WC-rom									
Tegning nr.: RHB 315.30									
TEGNING NR.: STINE - SA-001									